




1) Doplně předznamenání durových stupnic:

G dur	fis
..... dur	fis, .....
A dur	fis, ....., .....
..... dur	fis, ....., ....., .....
H dur	fis, ....., ....., ....., .....

2) Napiš stupnici D dur a durový kvintakord (5/3). Nezapomeň na předznamenání!*Příklad: kvintakord C dur:*

Pomůcka: durový kvintakord (5/3) je tvořený 1., 3. a 5. stupněm z durové stupnice.

3) Napiš stupnici H dur a durový kvintakord (5/3). Nezapomeň na předznamenání!4) Napiš durové kvintakordy (5/3):

C dur 5/3

E dur 5/3

A dur 5/3

G dur 5/3

5) Vysvětli rozdíl mezi stupnicí a tóninou:

Stupnice.....

.....

Tónina.....

.....